





Imię Nazwisko..... Semestr

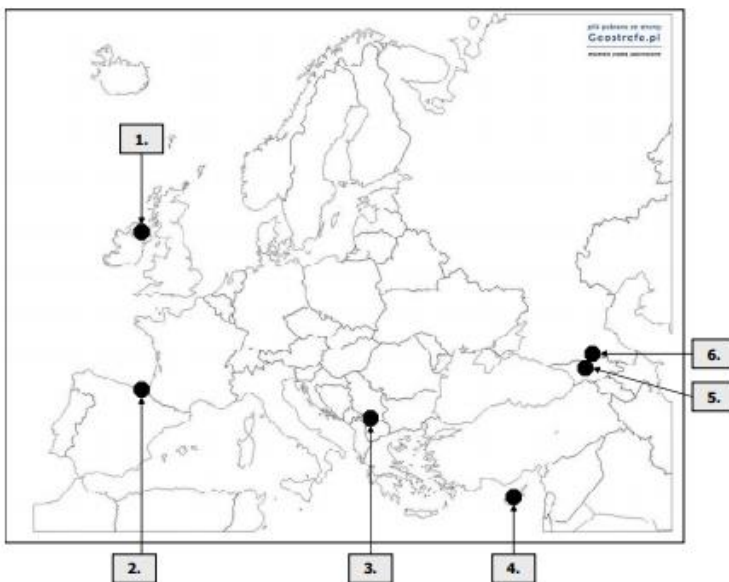
1. Poniżej podano symbole organizacji międzynarodowych. Podaj nazwę organizacji .

(5 pkt)

Symbol	Nazwa
	
	
	
	
	

2. Uzupelnij tabelę dotyczącą konfliktów w Europie

(6 pkt)



Nr	Nazwa konfliktu	Strona konfliktu
1.		
2.		
3.		
4.		
5.		
6.		

3. Dokończ:

(1 pkt)

Najpoważniejszy konflikt zbrojny w Europie, który rozpoczął się w 2014 r. miał miejsce